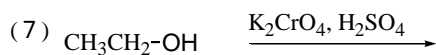
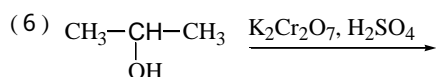
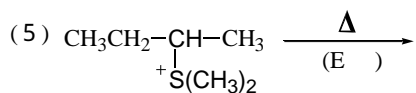
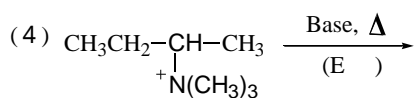
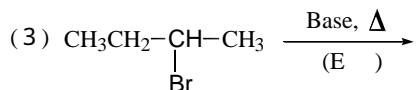
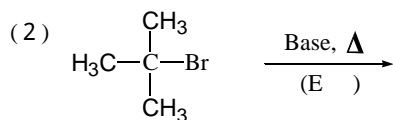
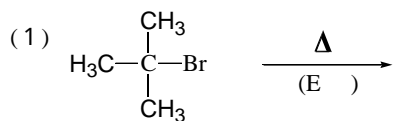


～脱離反応 (E1・E2)～

問題1. 次の各反応の主生成物を記せ。また、(1)～(5)については反応機構を答えよ。



問題2. 次の各反応の主生成物を記せ。また、(1)(2)についてはE,Zを答えよ。

